

ЗАКАРПАТСЬКИЙ ІНСТИТУТ ПІСЛЯДИПЛОМНОЇ ПЕДАГОГІЧНОЇ ОСВІТИ

Завдання

теоретичного туру

III етапу Всеукраїнської учнівської олімпіади з трудового навчання 2015/2016 н.р.

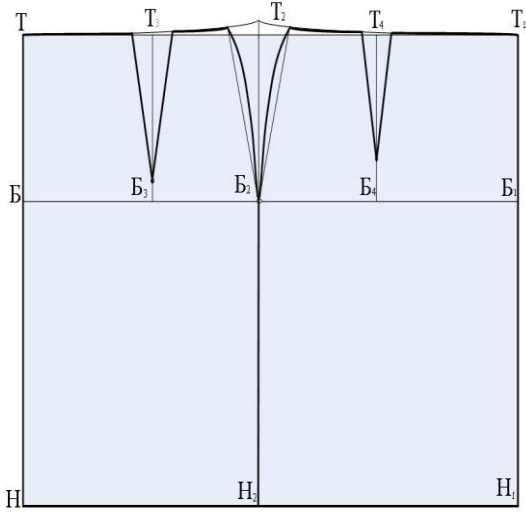
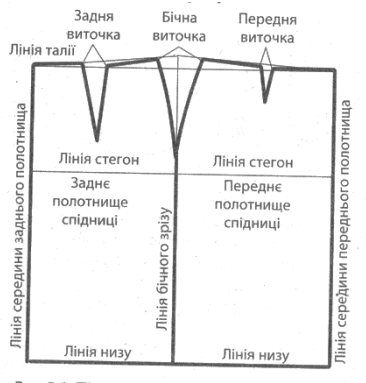
(обслуговуючі види праці)

9 клас

Шифр _____ Загальна кількість балів _____

У завданнях 1–10 потрібно вибрати лише ОДНУ правильну відповідь		
1	Вкажи, яка наука використовує форми та конструкції живої природи в техніці:	
	1. - ботаніка 2. - біоніка 3. - археологія 4. - етнографія	2
2	На тканині якого переплетення виконують шви прозоро-рахункової групи (мережки)?	
	1. - полотняного; 2. - саржевого; 3. - сатинового; 4. - атласного.	1
3	Яке поєднання кольорів можна використати у художній гладі?	
	1. - білий, червоний, чорний, синій; 2. - рожевий, світло-червоний, темно-червоний, пурпурний; 3. - білий і чорний.	2
4	Як називається відношення лінійних розмірів, зображених на кресленні, до їх натуральної величини?	
	1. - стандарт; 2. - масштаб; 3. - шрифт; 4. - креслення; 5. - зображення	2
5	Визначте, яку температуру повинна мати вода для прання шовкових тканин:	
	1. - 30°; 2. - 50°; 3. - 75°; 4. - 90°; 5. - 100°	1
6	Укажіть правильне визначення поняття «пруг»:	
	1. - сипучі поперечні краї тканини; 2. - сипучі повздовжні краї тканини 3. - несипучі поперечні краї тканини 4. - несипучі повздовжні краї тканини	4
7	Яку тканину використовують для пропрасовувача?	
	1. - вовняну 2. - бавовняну 3. - синтетичну 4. - шовкову 5. - штапельну	2
8	Вибір способу обробки нижнього зрізу виробу залежить:	
	1. - від виду тканини 2. - напрямку рисунка на тканині 3. - напрямку ворсу на тканині	1
9	Вкажіть, який з термінів визначає поняття - скріпити дві однакові за розміром деталі машинною строчкою:	
	1. - настрочити 2. - наметати 3. - зшити 4. - пришити	3

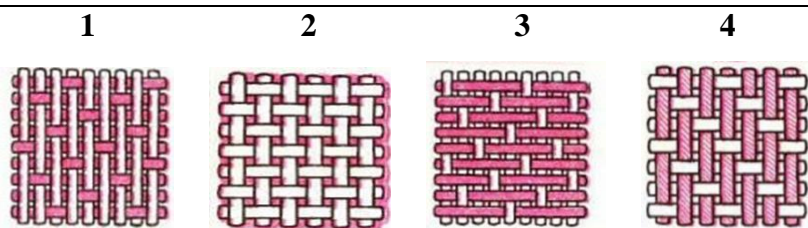
10	Вкажіть, як називається остаточна обробка деталей і виробу з метою видалення всіх заминів і надання потрібного вигляду?									
	<ol style="list-style-type: none"> 1. - відпрасування; 2. - розпрасування; 3. - припрасування; 4. - відпарювання; 5. - заправування 	1								
11	Замалюйте умовні позначення елементів в'язання гачком:									
	<ol style="list-style-type: none"> 1. Повітряна петля – 2. Петля підйому – 3. Півстовпчик – 4. Стовпчик з одним накидом – 	<table border="1" style="width: 100%;"> <tr> <td style="text-align: center;">1</td> <td style="text-align: center;">○</td> </tr> <tr> <td style="text-align: center;">2</td> <td style="text-align: center;">●</td> </tr> <tr> <td style="text-align: center;">3</td> <td style="text-align: center;"> </td> </tr> <tr> <td style="text-align: center;">4</td> <td style="text-align: center;">⌘</td> </tr> </table>	1	○	2	●	3		4	⌘
1	○									
2	●									
3										
4	⌘									

12	Вкажіть основні лінії на кресленні спідниці	
		 <p style="text-align: center;">Рис. 5.6. Лінії на кресленні швейного виробу</p>

У завданнях 13–14 оберіть ДЕКІЛЬКА правильних відповідей		
13	Відзначте правильні твердження	
	<ol style="list-style-type: none"> 1) Праску треба ставити на спеціальну підставку. 2) Слід зберігати ножиці з розімкнутими лезами. 3) Викрійку приколюють до тканини шпильками в одному напрямку. 4) Виконуючи підготовчі роботи, можна не знімати ногу з педалі. 5) Перед роботою на швейній машині необхідно перевірити, чи не залишилися у виробі шпильки або голки. 	1, 3, 5
14	Як спідниці розподіляються за силуетом?	
	<ol style="list-style-type: none"> 1. - прямі 2. - розширені 3. - трапецієвидні 4. - конічні 5. - звужені до низу 6. - клинові 	1,2,3,5

У завданнях 15–19 потрібно встановити відповідність

15 *Яка тканина має переплетення, зображене на малюнках?*




А -полотно
Б - саржа
В –сатин
Г- атлас

1	Г
2	А
3	В
4	Б

16 *Установіть відповідність між зображеними в'язаними узорами та їхніми назвами:*

1) панчішна; 2) хусткова; 3) резинка; 4) рисова



А Б В Г

1	Б
2	А
3	Г
4	В

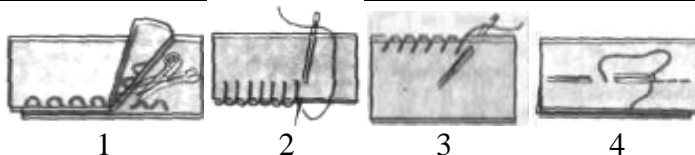
17 *Установіть відповідність між зображенням гачка та назвою його складових частин*

1) стержень; А Б В Г
2) борідка;
3) голівка;
4) ручка



1	В
2	Б
3	А
4	Г

18 *Установіть відповідність між зображеннями ручних стібків та їхніми назвами:*



А - обметувальні
Б - ручні зшивні
В – копіювальні
Г - петельні

1	В
2	Г
3	А
4	Б

19 *Установіть відповідність між термінами та їхніми визначеннями:*

1. - розкрій виробу;
2. - розкроювання;
3. - деталі крою;
4. – викрійки

А - деталі, з яких складається виріб;
Б - процес розрізання тканини на деталі відповідної форми і розміру для пошиття виробу;
В - вирізані з паперу креслення деталі;
Г - назва технологічної операції процесу виготовлення швейного виробу

1	Б
2	Г
3	А
4	В